





0		2
1		3
2		5
x		?

0		5
1		6
2		7
x		?

0		-1
1		0
2		1
x		?


0		-7
1		-6
2		-5
x		?


$$x + 2$$


$$x + 5$$


$$x - 1$$

$$x - 7$$

0		0
1		3
2		6
x		?

0		0
1		-1
2		-2
x		?

0		0
1		0,25
2		0,5
x		?

0		0
1		1
2		4
x		?

$$3x$$

$$-x$$

$$\frac{x}{4}$$

$$x^2$$